



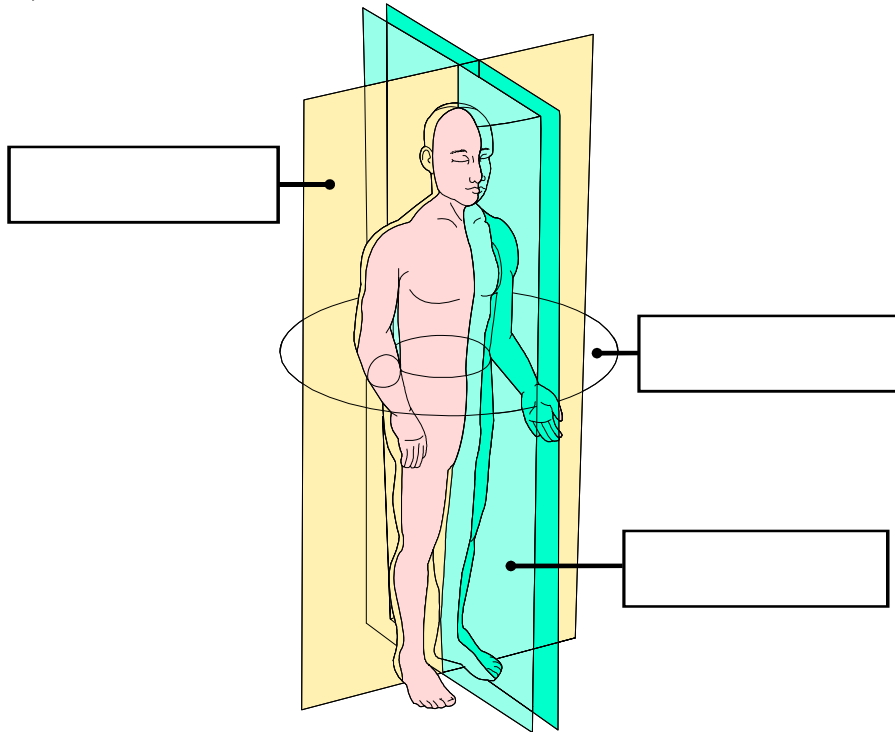
Kinesiología y Anatomía Funcional
HPER-2270

EP1: U1 01-02: Organización del Cuerpo Humano y Articulaciones (100 puntos)

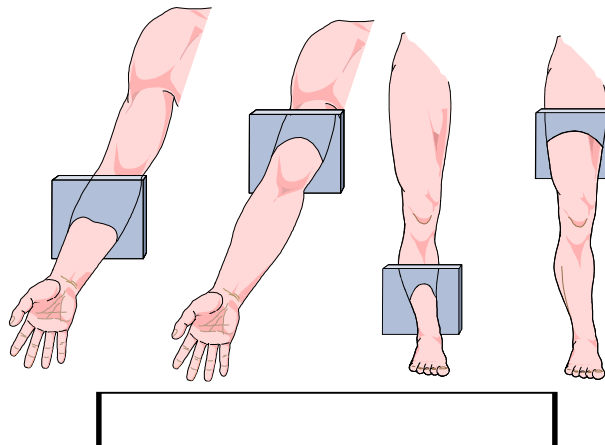
Nombre: _____ Núm. Est.: _____ Fecha: _____

Sección: _____ Hora de la Clase: _____ Días: _____

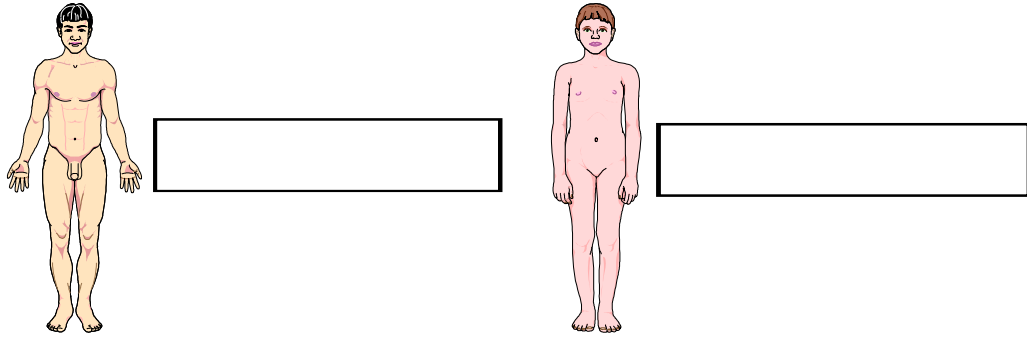
1. Rotule los planos correspondientes en el dibujo que sigue (**18 puntos, 6 puntos cada rótulo identificado**):



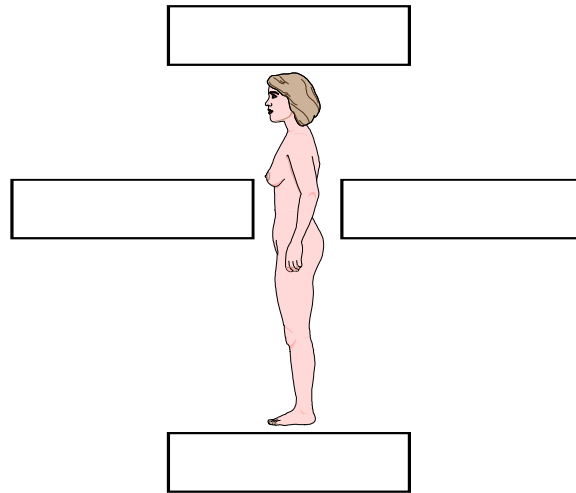
2. Según se ilustra, escriba el plano o corte específico (**6 puntos**):



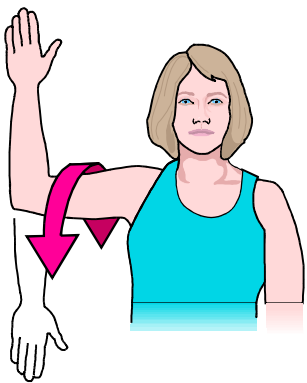
3. Rotule en el blanco correspondiente la posición descrita (10 puntos, 5 puntos c/u):



4. Rotule las direcciones correspondientes en la siguiente ilustración (20 puntos, 5 puntos c/u):

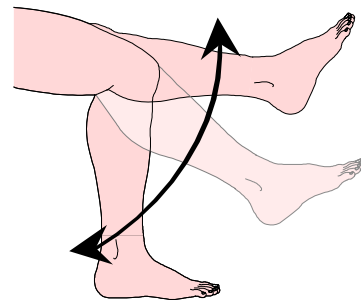


5. Identifique el plano y el eje para el movimiento dado (12 puntos, 3 puntos cada blanco):



➤ Plano:

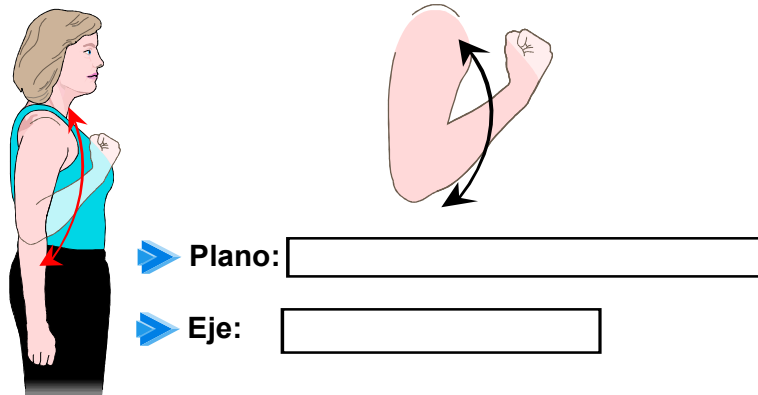
➤ Eje:



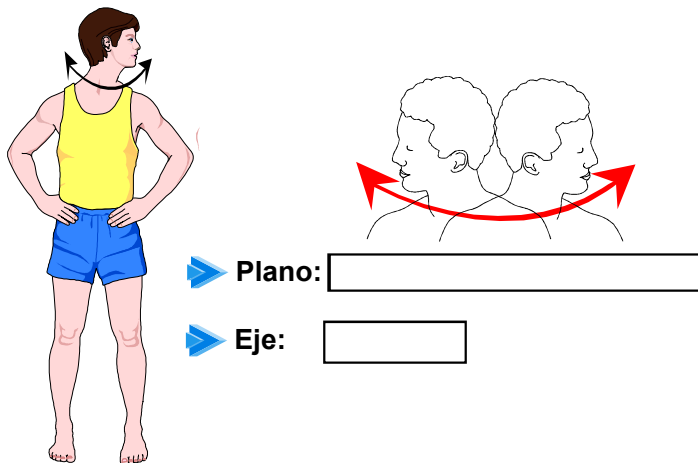
➤ Plano:

➤ Eje:

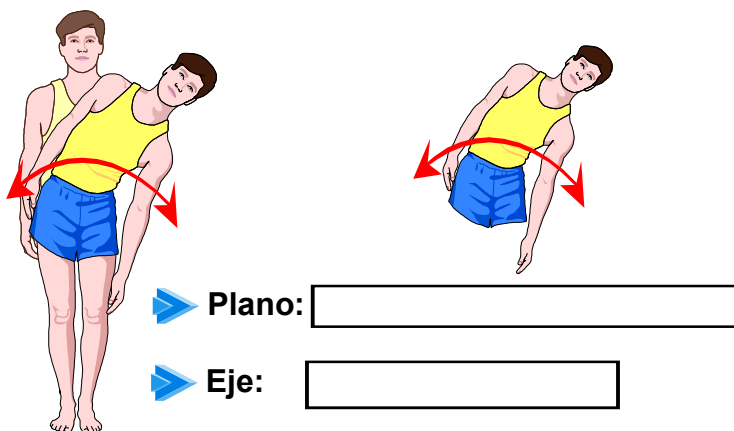
6. Identifique el plano y el eje para el movimiento del antebrazo (6 puntos, 3 puntos c/u):



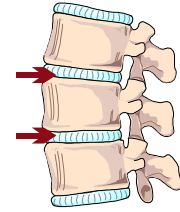
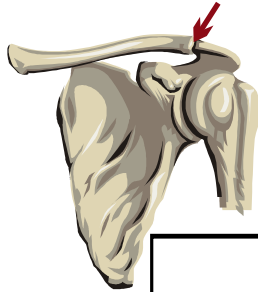
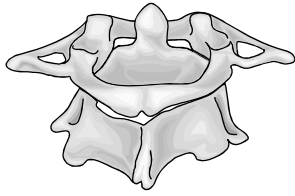
7. Identifique el plano y el eje para el movimiento de la cabeza (6 puntos, 3 puntos c/u):



8. Identifique el plano y el eje para el movimiento del tronco (6 puntos, 3 puntos c/u):



9. Rotule con el nombre científico cada articulación que se ilustra (6 puntos, 2 punto c/u):



10. Rotule el nombre del movimiento que ejecuta la articulación (10 puntos, 2 puntos c/u):

