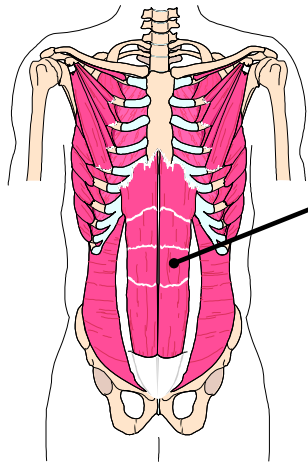


PRUEBA CORTA 2: Músculos Esqueléticos (36 puntos)

Nombre: _____ Núm. Est.: _____ Fecha: _____

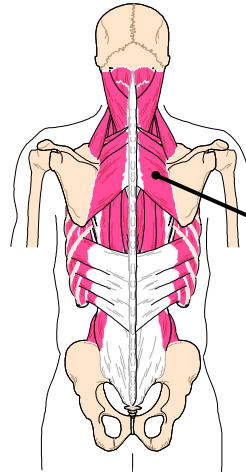
Sección: _____ Hora de la Clase: _____ Días: _____

1. Identifique cada músculo e indique su clasificación estructural (24 puntos, 3 puntos c/u)



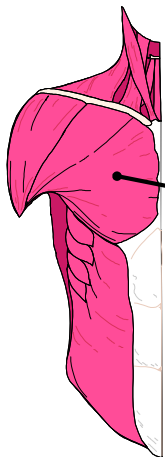
Nombre

Clasificación



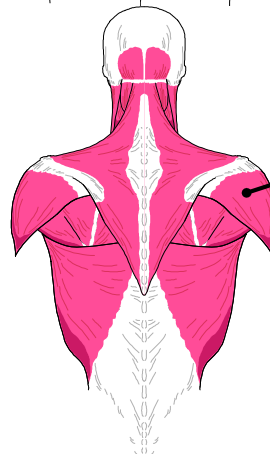
Nombre

Clasificación



Nombre

Clasificación



Nombre

Clasificación

2. Identifique cada músculo e indique su clasificación estructural. (12 puntos, 3 puntos c/u)



Nombre

Clasificación



Nombre

Clasificación