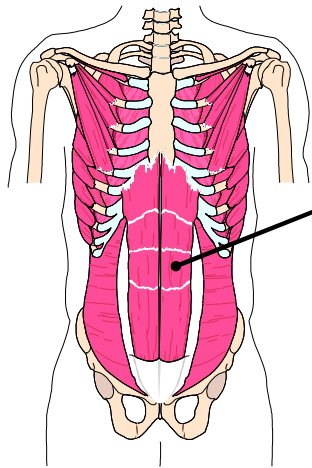


## PRUEBA CORTA 2: Músculos Esqueléticos (36 puntos)

Nombre: \_\_\_\_\_ Núm. Est.: \_\_\_\_\_ Fecha: \_\_\_\_\_

Sección: \_\_\_\_\_ Hora de la Clase: \_\_\_\_\_ Días: \_\_\_\_\_

1. Identifique cada músculo e indique su clasificación estructural (24 puntos, 3 puntos c/u)

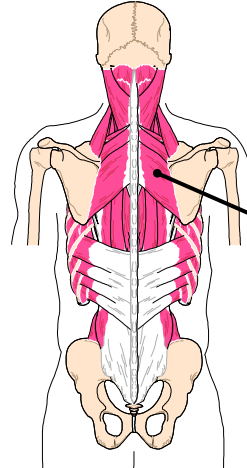


**Nombre**

**Recto Mayor del Abdomen**

**Clasificación**

**Longitudinal**

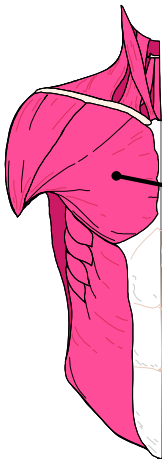


**Nombre**

**Romboide Mayor**

**Clasificación**

**Cuadrado  
(o Cuadrilátero)**

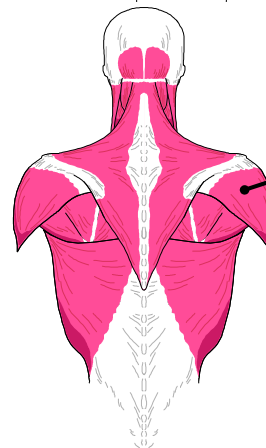


**Nombre**

**Pectoral Mayor**

**Clasificación**

**Triangular  
(Abanico o Convergente)**



**Nombre**

**Deltoide Posterior**

**Clasificación**

**Triangular  
(Abanico o Convergente)**

2. Identifique cada músculo e indique su clasificación estructural. (12 puntos, 3 puntos c/u)



**Nombre**

**Extensor Común de  
los dedos del Pie**

**Clasificación**

**Unipeniforme**



**Nombre**

**Recto Anterior del Muslo  
(Rectus Femoris)**

**Clasificación**

**Bipeniforme**